



ANADOLU ÜNİVERSİTESİ



HB – 201

TÜRKİYE HALK BANKASI UZMAN YARDIMCISI GİRİŞ SINAVI

21 KASIM 2009 – Cumartesi 14.30

TEST GRUBUNUZ

B

CEVAP KÂĞIDINIZA İŞARETLEMİYİ UNUTMAYINIZ.

ADAYIN

SOYADI :

ADI :

TC KİMLİK NUMARASI :

SINAV SALON NO: SIRA NO:

Soyadınızı, adınızı, TC kimlik numaranızı, salon ve sıra numaranızı yukarıya yazmayı unutmayınız.

FONKSİYONEL OLMAYAN HESAP MAKİNASI KULLANILABİLİR.

GENEL AÇIKLAMA

1. Bu soru kitapçığındaki testler şunlardır:

Testin Adı	Soru Sayısı	Sayfa No
ALAN BİLGİSİ	60	2
GENEL KÜLTÜR	18	11
GENEL YETENEK	18	14
YABANCI DİL	24	
İNGİLİZCE		18
ALMANCA		24
FRANSIYZCA		29

2. Toplam sınav süresi **180** dakikadır.

3. Cevaplamaya istediğiniz testin, istediğiniz sorusundan başlayabilirsiniz. Yalnız cevaplarınızı, cevap kâğıdında o test için ayrılmış olan bölümdeki aynı numaralı cevap yerine işaretlemeyi unutmayınız.

4. Cevaplarınızı koyu siyah ve yumuşak bir kurşunkalemle işaretleyiniz. İşaretinizi cevap yerinin dışına taşırmayınız. Tükenmez veya mürekkepli kalem kullanmayınız.

5. Değiştirmek istediğiniz bir cevabı yumuşak bir silgi ile, cevap kâğıdını örselemeden temizce siliniz ve doğru cevabınızı işaretlemeyi unutmayınız.

6. Cevap kâğıdınızı buruşturmayınız, katlamayınız ve üzerine gereksiz hiçbir işaret koymayınız.

7. Bu kitapçığındaki her sorunun bir tek doğru cevabı vardır. Bir soru için birden çok cevap yeri işaretlenmişse o sorunun cevabı değerlendirme dışı bırakılacaktır.

8. Yanlış cevaplarınız dikkate alınmayacaktır. Bu nedenle kitapçığındaki tüm sorular için size doğru gelen seçeneği işaretleyerek cevapsız soru bırakmamanız yararınıza olacaktır.

9. Kitapçığın sayfalarındaki boş yerleri müsvedde için kullanabilirsiniz.

Anadolu Üniversitesi tarafından hazırlanmış olan bu testlerin her hakkı saklıdır. Hangi amaçla olursa olsun, testlerin tamamının veya bir kısmının Anadolu Üniversitesi'nin yazılı izni olmadan kopya edilmesi, fotoğraflarının çekilmesi, herhangi bir yolla çoğaltılması, yayımlanması ya da kullanılması yasaktır. Bu yasağa uymayanlar gerekli cezai sorumluluğu ve testlerin hazırlanmasındaki mali külfeti peşinen kabullenmiş sayılır.

ALAN BİLGİSİ

1. Bütçe açıklarının finansmanı dış kaynaklardan alınan borçla sağlanıyorsa, bu borcun ödenmesinde sorun olmaması için aşağıdaki koşullardan hangisi sağlanmalıdır?

- A) Borcun geri ödenmesi aşamasında yeni dış borç alınması
- B) Dış ticaret fazlası yaratılması
- C) Alınan borcun uzun vadeli olması
- D) Düşük faizle borçlanılması
- E) Borcun döviz cinsinden alınması

2. Enflasyonla mücadelede, gider vergilerinin gelir vergilerine göre daha etkin olmasının temel nedeni aşağıdakilerden hangisidir?

- A) Vergi sisteminde istisna ve muafiyetlerin çok olması
- B) Ekonomide vergi kaçakçılığının yaygın olması
- C) Gelir vergisine yönelik politik direncin yüksek olması
- D) Gelir vergisinin artan oranlılığının yetersiz olması
- E) Gelir vergisinin bir kısmının tasarruflardan ödenebilmesi

3. Faydalı ömrü 10 yıl ve değeri 400.000 TL olan iktisadi kıymet için azalan bakiyeler usulüne göre amortisman ayrılmak istendiğinde ilk yıl ayrılacak amortisman tutarı kaç TL dir?

- A) 80.000
- B) 40.000
- C) 20.000
- D) 10.000
- E) 4.000

4. Aşağıdakilerden hangisi kamu harcamalarının otomatik stabilizatör olarak etkinliğini sınırlandıran unsurlardan biridir?

- A) Kamu gelirlerinin kamu harcamalarının altında olması
- B) Kamu harcamalarının milli gelirdeki değişikliklerden bağımsız olması
- C) Kamu harcamalarının bileşiminde transfer harcamalarının payının az olması
- D) Devletin ekonomi içindeki payının küçük olması
- E) Kamu harcamalarının milli gelire oranının düşük olması

5. Artan kamu harcamalarının dışlama etkisi yaratmaması için aşağıdakilerden hangisi alınabilecek önlemlerden biridir?

- A) Kamu harcamasının, özel kesimden borçlanarak finanse edilmesi
- B) Para arzının artırılması
- C) Kamu harcamalarının mal ve hizmet alımına yönltilmesi
- D) Kamu harcamalarının transfer harcamalarına yönltilmesi
- E) Kamu harcamalarının, ticari bankalardan borçlanarak finanse edilmesi

6. Aşağıdakilerden hangisi için en yüksek emlak vergisi oranı uygulanmaktadır?

- A) Büyükşehir belediye sınırları içindeki arazi
- B) Diğer belediye sınırları içindeki arsa
- C) Büyükşehir belediye sınırları içindeki işyeri
- D) Diğer belediye sınırları içindeki işyeri
- E) Büyükşehir belediye sınırları içindeki arsa

7. Kanunun yazılı veya resmi bir şekle tabi tuttuğu bir hukuki işlem, bu şekilde yapılmaz ise aşağıdakilerden hangisi söz konusu olur?

- A) Hukuki işlem şeklen geçerlidir; şekle uyulmama nedeniyle mağdur olan taraf hukuki işlemin yok sayılması için dava açabilir.
- B) Tarafların iradeleri uyuşmuş olduğundan işlem geçerlidir.
- C) Hukuki işlem doğar ancak, iptal ettirilebilir.
- D) Hukuku işlem hiç doğmaz.
- E) Hukuki işlem geçersizdir ancak, hukuki işlemde bir taahhüt yer almışsa bu taahhüt geçerlidir.

8. Kıymetli evrakla ilgili aşağıdaki ifadelerden hangisi yanlıştır?

- A) Senette yazılı hak, senetten ayrı olarak devredilemez.
- B) Yazılı senetlerdir.
- C) Senette yazılı hak, senetten ayrı olarak ileri sürülemez.
- D) Kambiyo senetlerini içermez.
- E) Sıkı şekil şartlarına bağlanmıştır.

21 Kasım 2009 HB-201-B

9. Bir sözleşmenin yapılabilmesi için gerekli olan iki irade açıklamasından zaman bakımından önce yapılanına verilen ad aşağıdakilerden hangisidir?

- A) İcap
- B) Teklif
- C) Edim
- D) Kabul
- E) Öngörü

10. Aşağıdakilerden hangisi tek bir kişinin irade açıklamasında bulunması ile hukuki sonuç doğuran bir işlemdir?

- A) Kira sözleşmesi
- B) Vekâlet
- C) Fesh-i ihbar
- D) Alım- satım
- E) Bağışlama

11. Alacağın temliki ile ilgili aşağıdaki ifadelerden hangisi yanlıştır?

- A) Borçlu iyi niyetli ise alacağı eski alacaklıya ödemekle borcundan kurtulur.
- B) Resmi yazılı şekilde yapılmalıdır.
- C) Borçlunun iznine gerek yoktur.
- D) Alacaklı tarafından gerçekleştirilir.
- E) Hukuki bir işlemdir.

12. Para borçları ile ilgili aşağıdaki ifadelerden hangisi yanlıştır?

- A) Kural olarak, memleket parasıyla ödenir.
- B) Kural olarak, ödeme zamanında alacaklının yerleşim yerinin bulunduğu yerde ifa olunur.
- C) Alacaklı kabul etmese bile alacaklının bankadaki hesabına para yatırılması ifa sayılır.
- D) Kural olarak, nakit olarak ödenir.
- E) Çek ile ödenmesi, ancak alacaklı bunu kabul ederse ifa sayılır.

13. Kendisine yetki verilen temsilcinin, hukuki işlemi yaparken onu başkasının adına yapmakta olduğunu karşısındaki kişilere söylemediği ve bundan dolayı üçüncü kişinin karşısındaki temsilci olduğunu bilmeden kendisi adına yaptığını sandığı temsil türü aşağıdakilerden hangisidir?

- A) Yetkili temsil
- B) Dolaylı temsil
- C) Doğrudan doğruya temsil
- D) Yetkisiz temsil
- E) Gizli temsil

14. I. İcra
II. Kast
III. İhmal
IV. Taksir

Yukarıdakilerden hangileri Ceza Hukukuna göre suçun maddi unsuru içerisinde yer alır?

- A) I ve III
- B) II ve III
- C) II ve IV
- D) I ve II
- E) III ve IV

15. İflasın açılması ile birlikte borçlunun haczedilmesi caiz olan mallarının bütününe verilen ad aşağıdakilerden hangisidir?

- A) Müflis
- B) İflas masası
- C) Hacizli mal
- D) Mamelek
- E) Tereke

16. Para değeri ile ölçülebilen artışlar için borçlandırılan, azalışlar için alacaklandırılan aktif hesap aşağıdakilerden hangisidir?

- A) Yurtiçi Satışlar Hesabı
- B) Banka Kredileri Hesabı
- C) Bankalar Hesabı
- D) Dönem Kârı veya Zararı Hesabı
- E) Sermaye Hesabı

21 Kasım 2009 HB-201-B

17.

TÜRK LİRASI		
MEVDUATA VERİLEN FAİZLER HS.	XXX	
TASARRUF MEVDUATI- VADELİ HS.		XXX

Bir ticari bankanın muhasebe servisinden alınan bu yevmiye kaydı aşağıdaki işlemlerden hangisine aittir?

- A) Vadeli Mevduat Hesabı sahibi gerçek kişi adına dönem faizi tahakkuk ettirilmesine
 B) Vadesiz Mevduat Hesabı sahibi gerçek kişi adına dönem faizi tahakkuk ettirilmesine
 C) Gelir vergisi ve fon kesintisi yapılması kaydına
 D) Çeklerin faiziyle birlikte takas odası tarafından kabul edilmesine
 E) Vadeli Mevduat Hesabı sahibi gerçek kişiden dönem faizi tahsil edilmesine

18. İşletme 600.000 TL maliyetli elektronik cihazları için normal amortisman yöntemine göre %20 oranında amortisman ayıracaktır.

Bu bilgilere göre yapılacak yevmiye kaydı aşağıdakilerden hangisidir?

- A)
- | | | |
|---------------------------------|---------|---------|
| TESİS
MAKİNE VE CİHAZLAR HS. | | |
| GENEL YÖNETİM
GİDERLERİ HS. | 120.000 | |
| | | 120.000 |
- B)
- | | | |
|--------------------------------|---------|---------|
| GENEL
YÖNETİM GİDERLERİ HS. | | |
| KASA HS. | 120.000 | |
| | | 120.000 |
- C)
- | | | |
|--------------------------------|---------|---------|
| GENEL
YÖNETİM GİDERLERİ HS. | | |
| DEMİRBAŞLAR HS. | 120.000 | |
| | | 120.000 |
- D)
- | | | |
|--------------------------------|---------|---------|
| GENEL
YÖNETİM GİDERLERİ HS. | | |
| BİRİKMIŞ AMORTİSMANLAR HS. | 120.000 | |
| | | 120.000 |
- E)
- | | | |
|--------------------------------|---------|---------|
| KASA HS. | | |
| GENEL YÖNETİM
GİDERLERİ HS. | 120.000 | |
| | | 120.000 |

19. Dönem Kârı veya Zararı Hesabının borç toplamı 900.000 TL ve alacak toplamı 800.000 TL dir.

Bu bilgilere göre muhasebe kaydında aşağıdakilerden hangisi yapılır?

- A) Dönem Net Zararı Hesabı 100.000 alacaklandırılır.
 B) Dönem Net Kârı Hesabı 100.000 borçlandırılır.
 C) Dönem Kârı veya Zararı Hesabı 100.000 borçlandırılır.
 D) Dönem Net Zararı Hesabı 100.000 borçlandırılır.
 E) Dönem Net Kârı Hesabı 100.000 alacaklandırılır.

20. İşletmenin 250.000 TL tutarlı senetsiz ticari alacağı normal süresi içinde tahsil edilememiş ve gerekli yasal koşullar sağlanarak şüpheli ticari alacak karşılığı ayrılmıştır.

Bu bilgilere göre yapılacak yevmiye kaydı aşağıdakilerden hangisidir?

- A)
- | | | |
|---|---------|---------|
| ŞÜPHELİ
TİCARİ ALACAKLAR KARŞILIĞI HS. | | |
| ŞÜPHELİ TİCARİ
ALACAKLAR KARŞILIĞI HS. | 250.000 | |
| | | 250.000 |
- B)
- | | | |
|---|---------|---------|
| KARŞILIK
GİDERLERİ HS. | | |
| ŞÜPHELİ TİCARİ
ALACAKLAR KARŞILIĞI HS. | 250.000 | |
| | | 250.000 |
- C)
- | | | |
|---|---------|---------|
| ŞÜPHELİ
TİCARİ ALACAKLAR HS. | | |
| ALICILAR HS. | 250.000 | |
| | | 250.000 |
| | | |
| ŞÜPHELİ TİCARİ
ALACAKLAR KARŞILIĞI HS. | 250.000 | |
| KARŞILIK GİDERLERİ HS. | | 250.000 |
- D)
- | | | |
|---|---------|---------|
| ALICILAR HS. | | |
| ŞÜPHELİ TİCARİ
ALACAKLAR KARŞILIĞI HS. | 250.000 | |
| | | 250.000 |
- E)
- | | | |
|---|---------|---------|
| ŞÜPHELİ
TİCARİ ALACAKLAR HS. | | |
| ALICILAR HS. | 250.000 | |
| ŞÜPHELİ TİCARİ
ALACAKLAR KARŞILIĞI HS. | | 150.000 |
| | | 100.000 |

21 Kasım 2009 HB-201-B

21. Aşağıdakilerden hangisi ticari işletme bilançosunun aktifinde yer almaz?

- A) Mallar
- B) Yabancı paralar
- C) Alacaklar
- D) Demirbaşlar
- E) Sermaye

22. Bir işletmeye ait bazı bilgiler aşağıdaki gibidir:

İşletmenin Dönemsonu Bilançoları		
Kalemler/Yıllar	2008	2007
Dönen Varlıklar	70.000	65.000
Hazır Değerler	10.000	5.000
Menkul Kıymetler	--	8.000
Ticari Alacaklar	17.000	17.000
Stoklar	40.000	30.000
Gelecek Aylara Ait Giderler	3.000	5.000

İşletmenin Gelir Tabloları		
Kalemler/Yıllar	2008	2007
Brüt Satışlar	120.000	100.000
Satış İndirimleri	(20.000)	(10.000)
Net Satışlar	100.000	90.000
Satışların Maliyeti	(70.000)	(70.000)
Brüt Satış Kârı	30.000	20.000

Bu tablolara göre, satışların maliyeti esas alınarak 2008 yılındaki stok devir hızı kaçtır?

- A) 0,5
- B) 1
- C) 1,5
- D) 2
- E) 2,5

23. Bir işletmenin hasılat, gelir ve kârlarının aynı döneme ait satışların maliyeti, gider ve zararları ile karşılaştırılmasını öngören temel muhasebe kavramı gereği düzenlenen mali tablo aşağıdakilerden hangisidir?

- A) Gelir tablosu
- B) Bilanço
- C) Nakit akış tablosu
- D) Finansman tablosu
- E) Fon akım tablosu

24. Banka yetkilisi, ticari bir bankadaki TL kurumsal kredi hesabından harcama yapan müşterisinin bu işlemi muhasebeleştirme istediğinde aşağıdakilerden hangisini yapar?

- A) Kısa Vadeli Açık Diğer Krediler hesabını alacaklandırır.
- B) Kasa Hesabını borçlandırır.
- C) Mali Kesime Verilen Kısa Vadeli Krediler hesabını alacaklandırır.
- D) Kısa Vadeli Açık Diğer Krediler hesabını borçlandırır.
- E) Mali Kesime Verilen Kısa Vadeli Krediler hesabını borçlandırır.

25. Bir satıcı bir malın % 20 sini % 30 kârla, % 40 ını % 20 zararla satıyor. Tüm satıştan % 10 kâr elde edebilmesi için geri kalan mali yüzde kaç kârla satmalıdır?

- A) 20
- B) 30
- C) 35
- D) 40
- E) 45

26. Bir arsa her yıl bir önceki yıla göre % 20 değer kazanmıştır. 2 yıl sonra alış fiyatının % 10 u kadar indirim yapılarak satıldığına göre, bu arsada yüzde kaç kâr elde edilmiştir?

- A) 34
- B) 30
- C) 24
- D) 20
- E) 10

27. A TL nin yıllık % x basit faiz oranıyla 3 yılda getirdiği faiz getirisi ile B TL nin yıllık % y basit faiz oranıyla 5 yılda getirdiği faiz getirisi eşittir.

$A = 3B$, $y = x + 20$ ve toplam faiz getirisi 18 000 TL olduğuna göre $A + B$ kaçtır?

- A) 8 000
- B) 12 000
- C) 16 000
- D) 20 000
- E) 24 000

21 Kasım 2009 HB-201-B

28. Yıllık % 20 bileşik faiz oranıyla bankaya yatırılan bir miktar para 4 yıl sonra faizi ile birlikte yaklaşık 62 200 TL olacağına göre, bankaya yaklaşık kaç TL yatırılmıştır?

- A) 24 000
- B) 26 000
- C) 30 000
- D) 33 000
- E) 35 000

29. A malının fiyatı B malının fiyatının % 40 ıdır. B malının fiyatı % 20 azaltılıp, A malının fiyatı % 40 artırıldığına göre, A malının fiyatı B malının fiyatının yüzde kaçı olur?

- A) 70
- B) 65
- C) 60
- D) 50
- E) 45

30. Faiz taşımayan 90 gün vadeli 41 200 TL nominal değerli bir senet % 12 iskonto oranı üzerinden bir bankaya iç iskonto yöntemine göre iskonto ettiriliyor. Buna göre, iskonto miktarı kaç TL dir? (1 yıl = 360 gün)

- A) 600
- B) 800
- C) 950
- D) 1 000
- E) 1 200

31. Bir malın etiket fiyatı % 40 kârla belirleniyor. Bu mal etiket fiyatı üzerinden % 20 indirimle a TL ye veya 56 TL indirimle b TL ye satılacaktır. $a < b$ olduğuna göre, bu malın etiket fiyatı aşağıdakilerden hangisi olabilir?

- A) 224 TL
- B) 238 TL
- C) 252 TL
- D) 280 TL
- E) 294 TL

32. 22 000 TL nominal değerli 4 ay vadeli ve 12 000 TL nominal değerli 8 ay vadeli iki senet yerine 12 ay vadeli yeni bir senet veriliyor. Yeni senedin nominal değeri kaç TL dir? (Bu işlemde iç iskonto yöntemi ve iskonto oranı % 30 kullanılacaktır.)

- A) 28 000
- B) 36 000
- C) 39 000
- D) 42 000
- E) 45 000

33. Faydalı ömrü 15 yıl, hurda değeri 8 000 TL olan bir makinenin yıllık amortisman tutarı 200 TL dir. Doğrusal amortisman yöntemine göre bu makinenin maliyet değeri kaç TL dir?

- A) 9 000
- B) 9 600
- C) 11 000
- D) 11 600
- E) 12 000

34. Bir bankadan 120 gün sonra ödenmek üzere bir miktar para istenmiştir. Banka yıllık % 20 faiz oranı üzerinden faiz tutarını peşin olarak tahsil ettikten sonra 14 000 TL ödeme yapmıştır. Buna göre, bankadan kaç TL istenmiştir? (Bir yıl = 360 gün)

- A) 15 000
- B) 16 000
- C) 16 500
- D) 16 800
- E) 17 000

35. Yıllık nominal faiz oranı % 30 ve dört ayda bir faizlendirme yapılıyorsa, yıllık efektif faiz oranı yaklaşık yüzde kaçtır?

- A) 21
- B) 22
- C) 28
- D) 33
- E) 35

21 Kasım 2009 HB-201-B

36. Bir bankadan aylık % 3 faiz oranıyla alınan bir miktar para 48 ayda eşit taksitlerle geri ödenecektir.

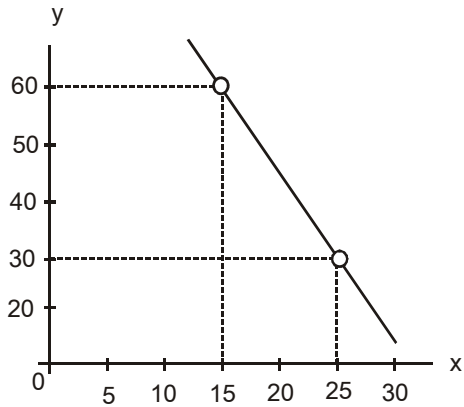
Aylık taksit miktarı 2 000 TL olduğuna göre, bankadan kaç TL alınmıştır? $((1,03)^{48} @ 4$ alınız.)

- A) 45 000
B) 50 000
C) 55 000
D) 58 000
E) 60 000

37. Orijinal yağlıboya resmini tamamlayan bir sanatçı, tüm üretim maliyetlerini göz önüne alarak, yarattığı eserin fırsat maliyetini 1.000 TL olarak belirlemiştir. Bir sanatsever de bu yağlıboya tabloya 1.500 TL ödeyerek satın almıştır. Bu sanatseverin elde ettiği tüketici rantı kaç TL dir?

- A) Mevcut veri ile belirlenemez.
B) 1.500
C) 1.000
D) 500
E) 0

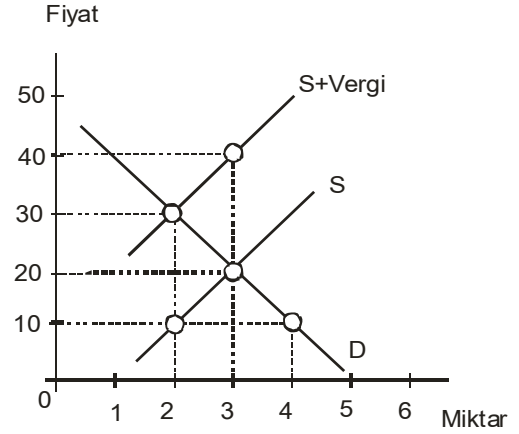
38.



Yukarıda yer alan grafikteki eğrinin eğimi nedir?

- A) $-1/3$
B) $-1/2$
C) -2
D) -3
E) -4

39.



Yukarıdaki grafik bir mala ilişkin piyasayı göstermektedir. Devlet söz konusu mal için satış vergisi uygulanmasına karar verirse, hiç kimsenin olmayan kayıp miktarı kaç TL dir?

- A) 40
B) 30
C) 20
D) 10
E) 5

40. Son on yılda tekstil ürünlerinde önemli ölçüde fiyat artışına karşın halkın her yıl satın aldığı tekstil ürünü miktarı da artmıştır. Bu durumla ilgili aşağıdaki ifadelerden hangisi doğrudur?

- A) Tekstil ürünleri talep eğrisi sağa kaymıştır.
B) Tekstil ürünleri talep eğrisi sola kaymıştır.
C) Tekstil ürünleri arz eğrisi sağa kaymıştır.
D) Tekstil ürünleri arz eğrisi sola kaymıştır.
E) Tekstil ürünlerinde talep kanunu çalışmamaktadır.

21 Kasım 2009 HB-201-B

41.

A Malı		B Malı	
Miktar	Toplam Fayda	Miktar	Toplam Fayda
0	0	0	0
1	600	1	240
2	1000	2	360
3	1300	3	460
4	1540	4	520
5	1590	5	570
6	1636	6	590
7	1676	7	602
8	1708	8	610
9	1728	9	616
10	1738	10	620

Yukarıdaki tablo bir tüketicinin A ve B malından elde ettiği toplam faydayı göstermektedir. Tüketicinin bu iki mala ayırdığı toplam bütçe 10 TL, A malının fiyatı 2 TL ve B malının fiyatı 1 TL ise tüketiciye fayda maksimizasyonu sağlayan A ve B malı tüketim bileşimi aşağıdakilerden hangisidir?

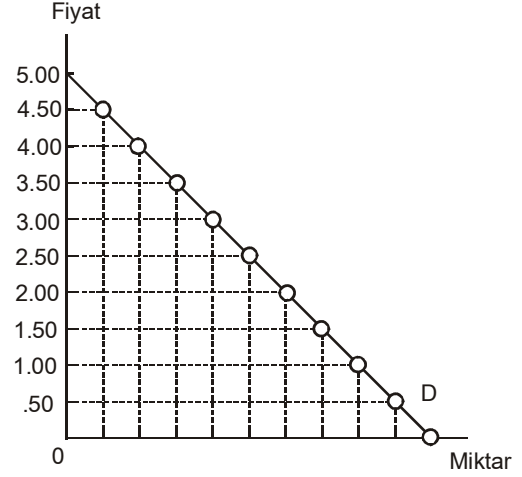
- | A Malı | B Malı |
|------------|---------|
| A) 4 birim | 2 birim |
| B) 5 birim | 0 birim |
| C) 3 birim | 4 birim |
| D) 2 birim | 6 birim |
| E) 1 birim | 8 birim |

42. I. Tekelci üretimin varlığı
II. Vergilerin söz konusu olması
III. Malın kamu malı niteliği taşıması

Yukarıdakilerden hangileri bir malın aşırı ya da yetersiz üretimine neden olan olgulardır?

- A) Yalnız I
B) I ve II
C) I ve III
D) II ve III
E) I, II ve III

43.



A malına ilişkin talep eğrisini gösteren yukarıdaki grafiğe göre üreticiler fiyatı 2 TL den 1,50 TL ye düşürdüklerinde aşağıdaki durumlardan hangisi ortaya çıkar?

- A) Talep inelastik olduğu için toplam gelir azalır.
B) Talep inelastik olduğu için toplam talep artar.
C) Talep esnek olduğu için toplam gelir azalır.
D) Talep esnek olduğu için toplam gelir artar.
E) Eksik veri nedeniyle değerlendirme yapılamaz.

44. Geriye bükülen işgücü arz eğrisine sahip olan bir işçi, bu eğrinin yukarıya doğru (pozitif) eğimli olan bölgesi üzerinde yer alıyorsa, ücrette meydana gelen artışın yaratacağı ikame etkisi ile ilgili aşağıdaki ifadelerden hangisi doğrudur?

- A) Gelir etkisine eşittir.
B) Gelir etkisinden küçüktür.
C) Gelir etkisini ortadan kaldırır.
D) Gelir etkisi ile aynı yönde çalışır.
E) Gelir etkisinden büyüktür.

21 Kasım 2009 HB-201-B

45.

Fiyat	Miktar	Toplam Maliyet
50	0	10
45	20	110
40	40	310
35	60	710
30	80	1.210
25	100	1.810

Bir tekelinin malına olan talep miktarını ve üretim maliyetlerini gösteren yukarıdaki tabloya göre bu firmanın elde edebileceği maksimum ekonomik kâr kaç TL dir?

- A) 2.690
B) 2.490
C) 1.590
D) 1.550
E) 1.390

46. Piyasa dört adet firma tarafından eşit olarak paylaşılıyorsa Herfindahl-Hirschman indeksi kaç olur?

- A) 2500
B) 250
C) 25
D) 4
E) 1/4

47. Bir iktisatçı verdiği bir demeçte pozitif net yatırımların sermaye teçhizatında bir artış yaratacağını, bunun da işgücünün verimliliğini arttıracığını belirtmektedir. Bu ifadede kullanılan akım ve stok değişkenler aşağıdakilerden hangisinde doğru olarak verilmiştir?

Akım Değişken Stok Değişken

- A) Net yatırım Verimlilik
B) Sermaye Verimlilik
C) Verimlilik Net yatırım
D) Sermaye Net yatırım
E) Net yatırım Sermaye

48. Tekelci firma, kârını maksimize etmek istiyorsa, talebin fiyat esnekliğinin hangi değerine kadar üretimini arttırmalıdır?

- A) Sonsuz
B) Esnek
C) Birim
D) İnelastik
E) Sıfır

49. I. Sermaye birikimi
II. Teknolojik gelişme
III. Para arzı

Yukarıdaki faktörlerden hangileri potansiyel GSYİH artışını belirler?

- A) Yalnız I
B) I ve II
C) I ve III
D) II ve III
E) I, II ve III

50. Bir üretim faktörüne ait arz esnekliğinin çok düşük olması durumunda aşağıdakilerden hangisi gerçekleşir?

- A) Bu faktöre olan talep o ölçüde inelastik olur.
B) Bu faktöre olan talep de o ölçüde esnek olur.
C) Gelirin daha büyük kısmı iktisadi ranttan oluşur.
D) Bu faktörün neden olduğu dolaylı talep o ölçüde güçlü olur.
E) Gelirin daha büyük kısmı fırsat maliyetinden oluşur.

51. Diğer koşullar sabitken, otonom tüketim harcamalarında meydana gelecek bir artış tüketim fonksiyonu üzerinde nasıl bir etki yaratır?

- A) Daha dik hale gelir.
B) Konumunda bir değişiklik olmaz.
C) Yukarıya kayar.
D) Daha yatık hale gelir.
E) Aşağıya kayar.

52. Tasarruf arzı ve yatırım talebinin denge reel faiz oranını belirlediği bir ortamda, halkın gelecekte elde etmeyi beklediği gelir düzeyinin yükselmesi reel faiz oranı ve denge yatırım miktarını nasıl etkiler?

Reel Faiz Oranı Yatırım Miktarı

- A) Artar Azalır
B) Artar Artar
C) Azalır Artar
D) Azalır Azalır
E) Değişmez Değişmez

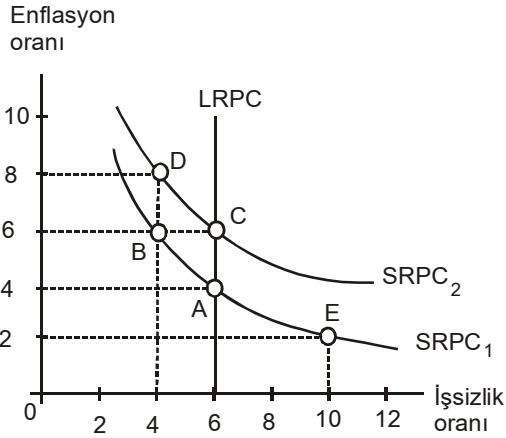
21 Kasım 2009 HB-201-B

53. I. İstihdam edilenlerin sayısı
II. İşsiz sayısı
III. Nüfus
IV. Çalışma çağındaki nüfus

Yukarıdakilerden hangileri işgücüne katılım oranını hesaplayabilmek için gereklidir?

- A) I ve II
B) II ve III
C) I, II ve IV
D) I, III ve IV
E) I, II, III ve IV

54.



Kısa ve uzun dönem Phillips Eğrilerini (sırasıyla, SRPC ve LRPC) gösteren yukarıdaki grafiğe göre, ekonomi A noktasında iken enflasyon oranının beklenmedik şekilde %6 ya çıkması durumunda ekonomi hangi noktaya kayar?

- A) A noktasında kalır
B) B
C) C
D) D
E) E

55. Barro - Ricardo etkisine göre aşağıdakilerden hangisi doğrudur?

- A) Kamu bütçe açığı vergi mükelleflerinin verginin etkisini dengeleme gücünü azaltır.
B) Kamu bütçe açığı reel faiz oranını etkilemez.
C) Kamu bütçe açığı faiz oranını ters yönde etkiler.
D) Kamu bütçe açığı ile yatırım hacmi arasında pozitif ilişki vardır.
E) Kamu bütçe açığı halkın gelir artış beklentilerini uyarır.

56. Reel Konjonktür Modelinde aşağıdakilerden hangisi yer almaz?

- A) Reel GSYİH
B) Fiyatlar genel düzeyi
C) Kısa dönem toplam arz eğrisi
D) Uzun dönem Phillips eğrisi
E) Toplam talep eğrisi

57. Aşağıdakilerden hangisi gelir-harcama akımından sızıntı niteliği taşıyan değişkenlerden biridir?

- A) Yatırım
B) Para arzı
C) Kamu harcamaları
D) İhracat
E) İthalat

58. I. İşgücü arzı
II. Kullanılan sermaye miktarı
III. Reel GSYİH

Arz yönlü iktisatçılara göre yukarıdakilerden hangileri vergi indirimlerinin etkilediği değişkenlerdir?

- A) Yalnız III
B) I ve II
C) I ve III
D) II ve III
E) I, II ve III

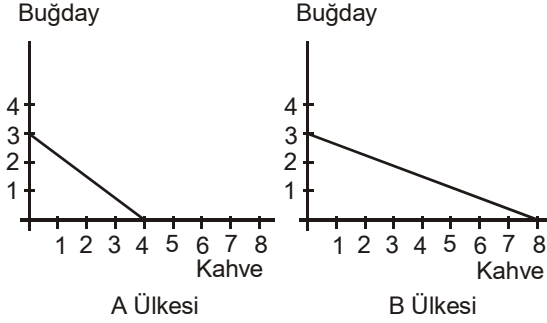
59. I. Yeni Klasik Model
II. Yeni Keynesyen Model
III. Reel Konjonktür Modeli

Mevcut verilere göre vergilerde beklenmeyen bir değişikliğin ekonomik durgunluğa neden olduğu belirlenmiştir. Bu durum yukarıdaki konjonktür teorilerinden hangilerinin görüşlerini destekler?

- A) Yalnız I
B) Yalnız II
C) Yalnız III
D) I ve II
E) I, II ve III

21 Kasım 2009 HB-201-B

60.



Yukarıdaki şekil A ve B ülkeleri için üretim imkânları eğrilerini göstermektedir. Bu ülkeler aralarında ticarete başladığında aşağıdakilerden hangisi her iki ülke için de en kârlıdır?

- A) A dan B ye buğday, B den A ya kahve ihracatı
- B) İki ülke de dış ticaretten yarar elde edemez.
- C) B den A ya buğday, A dan B ye kahve ihracatı
- D) B den A ya buğday ve kahve ihracatı
- E) A dan B ye buğday ve kahve ihracatı

GENEL KÜLTÜR

61. Aşağıdaki cümlelerin hangisinde bir anlatım bozukluğu vardır?

- A) Araştırmamda, anaokuluna giden çocuklarla gitmeyenlerin dil gelişimini karşılaştırıp aralarındaki farkı belirleyeceğim.
- B) Bu mevsimde, balkondaki çiçeklerin kapalı bir yere taşınması gerekiyor.
- C) Toprak kaymasının en çok nerelerde görüldüğünü saptayarak buna karşı hangi önlemlerin alınabileceğini tartışacağız.
- D) Neşeli ve güldürü unsurlarının çokça kullanıldığı bu filmi mutlaka görmelisiniz.
- E) Bu toplantıda çeşitli hastalıklar ve bunların nedenleri konusunda ayrıntılı açıklamalar yapılacak.

62. Güneş, Süphan Dağı'nın ardından yüzünü gösterdiğinde Kevser ana, iki katlı, ahşap verandalı, yüzyıllık evinin kayrak taşı döşeli geniş avlusunu çoktan yıkamıştı. Üst kattaki balkonunda sabah namazını kıldıktan sonra yarım asırdır avlusunu paylaştığı komşusu ile kapının önüne oturup çatıdaki kiremitleri aktaracak ustayı beklemeye başladı. Bu sırada karşıdaki tahta panjurlu evin bahçesinden beyaz bir güvercin havalanıp yandaki evin bacasına kondu. Yöreye özgü olan bu bacaların her biri sanat eseri idi.

Bu parçanın anlatımı ile ilgili olarak aşağıdakilerden hangisi söylenemez?

- A) Yorumla yer verilmiştir.
- B) Kanıtlanabilir yargılara yer verilmiştir.
- C) Kişiselleştirmeye başvurulmuştur.
- D) Betimleme yapılmıştır.
- E) Öykülemeye başvurulmuştur.

63. (I) Yapıtını gece boyunca okuyup yuttuktan sonra, vakit geçirmeme olanak yoktu. (II) Düşüncelerimi belirtmek için hemen yazmaya koyuldum. (III) Öncelikle şunu söylemeliyim: (IV) Bugünkü edebiyatta bu güçte bir yapıtla karşılaşmadım. (V) Günümüzün yazarları arasında hiç kimse, ne ben, ne de bir başkası, böyle bir şey yazmayı başaramadı.

Yukarıdaki numaralanmış cümlelerin hangilerinde "karşılaştırma" söz konusudur?

- A) III. ve IV.
- B) II. ve III.
- C) I. ve II.
- D) IV. ve V.
- E) I. ve IV.

21 Kasım 2009 HB-201-B

64. Sedef, süslemeciliğin dışında tıp alanında da karşımıza çıkar. Örneğin uzun yıllardan beri geleneksel Çin tıbbında iyileştirici bir madde olarak kullanılır. Amerika Birleşik Devletleri'ndeki Berkley Ulusal Araştırma Laboratuvarı'nda yapılan çalışmalara göre kalsiyum beynimizden gelen sinyallerin sinirden sinire aktarılmasında önemli bir rol oynuyor. Hücre içerisindeki kalsiyum dengesi sınırlar arasındaki iletişimin başarılı bir şekilde gerçekleşmesini sağlıyor. Eğer hücrede kalsiyum dengesi bozulursa ortaya çeşitli hastalıklar çıkıyor. Çin'de yapılan araştırmalarda sedefin içerisinde bulunan kalsiyumun diğer kaynaklardaki kalsiyuma göre vücut tarafından daha kolay alındığı ortaya çıkarılmış. Bu nedenle sedefin içerisinde bulunan kalsiyumdan yapılan ilaçların insanlar için daha faydalı olduğu kabul ediliyor. Günümüze kadar süslemecilikte, mücevher yapımında ve tıp alanında kullanılan sedef bu alanlarda kullanılmaya devam ediyor. Ancak yakın bir zamanda yapısının tam olarak aydınlatılmasıyla birlikte onu çok farklı alanlarda görebileceğiz.

Yukarıdaki parçada sedefle ilgili aşağıdakilerden hangisine değinilmemiştir?

- A) Kullanıldığı alanlara
- B) İlaç olarak kullanıldığında etki mekanizmasının ne olduğuna
- C) İçeriğindeki yararlı mineralin insan sağlığı açısından önemine
- D) İçeriğindeki mineral eksikliğinde insanlarda ortaya çıkan hastalık türlerine
- E) Tıp alanında yaygın olarak kullanılan ülkeye

65. Eski sanatçıları, aydınları ölüm günlerinde anma bir değerbilirliktir. Ama arkalarından ağıt yakmayı anlayamıyorum. İnsan umutlandırıcı, sevindirici güzel şeyler de söyleyebilmeli. Bunlar da niye doğrudan doğruya sanatçıların, aydınların geride bıraktıkları şeyler olmasın?

Bu parçada vurgulanmak istenen düşünce aşağıdakilerden hangisidir?

- A) Sanatçıları ve aydınları yaşatmak onların olumlu yönlerini sürekli yüceltmekle olur.
- B) Sanatçıları ve bilim insanlarını anma toplantıları daha sık düzenlenmelidir.
- C) Anma toplantılarında sanatçılar, yaşadıkları dönemin koşullarında ele alınmalıdır.
- D) Sanatçılar ve bilim insanları yaşarken de toplantılar düzenlenmelidir.
- E) Sanatçıları ve aydınları anmanın en somut yolu onların yapıtlarından söz etmektir.

66. **Aşağıdakilerden hangisi 1982 Anayasasında yer almaz?**

- A) Bakanlar Kurulu'nun programını, kuruluşundan en geç bir hafta içinde Türkiye Büyük Millet Meclisine sunması ve güvenoyuna başvurusu
- B) Başbakanı gerek görürse görev sırasında da Türkiye Büyük Millet Meclisinden güvenoyu isteyebilmesi
- C) Cumhurbaşkanının Başbakanlığa, Meclis içinden ve dışından uygun göreceği kişiyi ataması
- D) Bakanlıkların kurulması, kaldırılması, görevlerinin kanunla düzenlenmesi
- E) Bakanların, Türkiye Büyük Millet Meclisi üyeleri veya milletvekili seçilme yeterliliğine sahip kişiler arasından başbakanca seçilmesi

67. **Siyasi partileri demokrasinin vazgeçilmez bir ögesi olarak alan ilk anayasa aşağıdakilerden hangisidir?**

- A) 1876 Anayasası
- B) 1921 Anayasası
- C) 1924 Anayasası
- D) 1961 Anayasası
- E) 1982 Anayasası

68. **Türkiye'de çok partili hayatın sürdürülmesini önleyen ve demokratikleşmeyi geciktiren olay aşağıdakilerden hangisidir?**

- A) Dersim isyanı
- B) Menemen olayı
- C) Koçkiri isyanı
- D) 31 Mart olayı
- E) Şeyh Said isyanı

69. **Genel ve katma bütçeli dairelerin gelir ve giderlerini Türkiye Büyük Millet Meclisi adına denetleme yetkisi aşağıdaki kurumlardan hangisine verilmiştir?**

- A) Devlet Denetleme Kurulu
- B) Sayıştay
- C) Maliye Bakanlığı
- D) Danıştay
- E) Vergi daireleri

21 Kasım 2009 HB-201-B

70. Devletin, kamu hizmetlerini yerine getirirken ve kamu ile ilgili görevlerini yürütürken çeşitli zorunluluklar nedeniyle ihtiyaç duyulması sonucu ortaya çıkan kuruluş aşağıdakilerden hangisidir?

- A) Sivil toplum örgütleri
- B) Kamu iktisadi teşebbüsleri
- C) Meslek odaları
- D) Dernekler
- E) Meslek birlikleri

71. Cumhurbaşkanının aşağıdaki görev ve yetkilerinden hangisi "yargı" ile ilgili değildir?

- A) Hakimler ve Savcılar Yüksek Kurulu üyelerini seçmek
- B) Askeri Yargıtay üyelerini seçmek
- C) Anayasa Mahkemesi üyelerini seçmek
- D) Kanunları tekrar görüşmek üzere TBMM'ye geri göndermek
- E) Yargıtay Cumhuriyet Başsavcısını seçmek

72. Özel durumlar dışında milletlerarası hukukun meşru saydığı hallerde savaş hali ilanına, Türk Silahlı Kuvvetleri'nin yabancı ülkelere gönderilmesine veya yabancı silahlı kuvvetlerin Türkiye'de bulunmasına izin verme yetkisi aşağıdakilerden hangisine aittir?

- A) Bakanlar Kuruluna
- B) Milli Savunma Bakanına
- C) TBMM'ne
- D) Başbakana
- E) Anayasa Mahkemesi üyelerine

73. Sürekli hastalık, sakatlık ve yaşlanma sebebi ile belirli kişilerin cezalarını hafifletmek veya kaldırmak aşağıdakilerden hangisinin yetkisindedir?

- A) Cumhurbaşkanı
- B) Yargıtay Başkanı
- C) Adalet bakanı
- D) Bakanlar Kurulu
- E) Başbakan

74. Aşağıdakilerden hangisi Dünya Ticaret Örgütü (WTO) tahminine göre 2050 yılında dünyanın en büyük olması beklenen dört ekonomisinden biri değildir?

- A) Çin
- B) Hindistan
- C) Arjantin
- D) Rusya
- E) Brezilya

75. Uluslararası Para Fonu (IMF) uzmanları tarafından yayımlanan bir analize göre, Türkiye'nin de aralarında bulunduğu 9 ülke ekonomik krizin yarattığı durgunluktan daha hızlı çıkacak.

Aşağıdakilerden hangisi bu ülkelerden biri değildir?

- A) ABD
- B) Polonya
- C) Hindistan
- D) Meksika
- E) Brezilya

76. 2004 yılında hazırlanarak imzaya açılan Türkiye'nin de aday olarak imzaladığı ancak bazı üye ülkeler tarafından referandumlarla reddedilen AB Anayasası'nın revize edilerek gündeme getirilen şekli aşağıdakilerden hangisidir?

- A) Kyoto Protokolü
- B) Paris antlaşması
- C) Nice Antlaşması
- D) Lizbon Antlaşması
- E) Maastricht Antlaşması

77. Geçtiğimiz günlerde hayata gözlerini yuman güçlü, pes sesiyle kitlelerin kalbini fetheden folklor ile rock'u harmanlayarak ve opera şarkılarıyla 210 dan fazla albüm çıkaran Latin Amerikalı sanatçı aşağıdakilerden hangisidir?

- A) Eva Peron
- B) Mercedes Sosa
- C) Maria Callas
- D) Joan Baez
- E) Yuma Sumac

21 Kasım 2009 HB-201-B

78. En son Sultan Abdülmecid ve o dönem restorasyonu yürüten İsviçreli mimar Gaspere Fossati'nin gördüğü, üzerleri sıva ve metal maskeyle kapatılan, 700 yaşında olduğu tahmin edilen, İncil'de adı geçen ve Tanrının tahtını korumakla görevli olan, yeniden yapılan restorasyonla açılan Kerubim-Serafim figürü İstanbul'daki hangi tarihi yapıda yer almaktadır?

- A) St.Antuan Kilisesi
- B) Aya Yorgi Kilisesi
- C) Kariye Camii
- D) Aya İrini
- E) Ayasofya

GENEL YETENEK

79. $x \neq y$ tamsayıları olmak üzere, bir miktar kalem bulunan bir kutudan x tane kalem alınıyor ve alınan bu kalemlerden y tanesi tekrar kutuya konuyor.

Kutunun içinde $5y + 34$ tane kalem kaldığına ve kutudaki kalem sayısı iki basamaklı bir doğal sayı olduğuna göre, y en fazla kaç olabilir?

- A) 11
- B) 12
- C) 13
- D) 14
- E) 15

80. Kenar uzunlukları 120 ve 144 metre olan dikdörtgen şeklindeki bir tavana spot lambalar takılacaktır. Her lamba tavanın içerisinde boşluk kalmayacak şekilde oluşturulacak eşit ve en büyük karelerin ortasına takılacaktır.

Bu iş için gereken lamba sayısı kaçtır?

- A) 20
- B) 24
- C) 30
- D) 60
- E) 72

81. ve 82. sorular aşağıdaki bilgilere göre cevaplandırılacaktır.

Aşağıdaki kurallar uygulanarak terimleri pozitif olan a_1, a_2, \dots, a_n dizileri oluşturuluyor.

- Dizinin ilk terimi a_1 , $a_1 > 0$ olmak koşuluyla istenildiği gibi seçilir.
- Ardışık iki terimin oranına ortak çarpan adı verilir. Ortak çarpan r ile gösterilir.
Örneğin, $a_1=2$ ve $a_2=4$ olan bir dizide ortak çarpan; $r = \frac{a_2}{a_1} = \frac{4}{2} = 2$ şeklinde elde edilir.
- Dizinin genel terimi a_n olmak üzere;
 $a_n = a_1 \cdot r^{n-1}$ formülüyle elde edilir.
Örneğin dizinin 4. terimi, $a_4 = a_1 \cdot r^3$ şeklinde bulunur.

81. Bu bilgilere göre, ilk üç terimi 4, K, 36 olan bir dizinin beşinci terimi kaçtır?

- A) 108
- B) 182
- C) 256
- D) 324
- E) 386

82. Yukarıdaki bilgilere göre, $\frac{2}{5}$ ile $\frac{1}{160}$ arasında

5 sayı yerleştirilerek 7 terimli bir dizi elde ediliyor.

Bu dizinin 3. terimi kaçtır?

- A) $\frac{1}{5}$
- B) $\frac{1}{10}$
- C) $\frac{1}{15}$
- D) $\frac{1}{20}$
- E) $\frac{1}{40}$

21 Kasım 2009 HB-201-B

83. Orta noktası işaretlenmiş olan bir telin bir ucundan $\frac{2}{5}$ i diğer ucundan ise $\frac{1}{4}$ ü kesildiğinde telin orta noktası başlangıçtaki konumundan 3 cm kayıyor. Buna göre, telden toplam kaç cm kesilmiştir?

- A) 12
B) 15
C) 18
D) 26
E) 30

84. Bir torbadaki bilyeler dörder dörder sayıldığında 3 bilye, beşer beşer sayıldığında 4 bilye, altışar altışar sayıldığında 5 bilye artıyor. Bu torbadaki bilye sayısı 145 ten az olduğuna göre, torbada en fazla kaç bilye vardır?

- A) 57
B) 76
C) 95
D) 114
E) 119

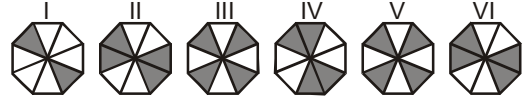
85. 72 sayısının pozitif tam sayı bölenlerinin toplamı kaçtır?

- A) 195
B) 210
C) 285
D) 390
E) 450

86. Ozan a yılında, Kerem b yılında doğmuştur. 3 yıl sonraki yaşları oranı $\frac{3}{4}$ olacağına göre, b - a en az kaçtır?

- A) 2
B) 3
C) 4
D) 5
E) 7

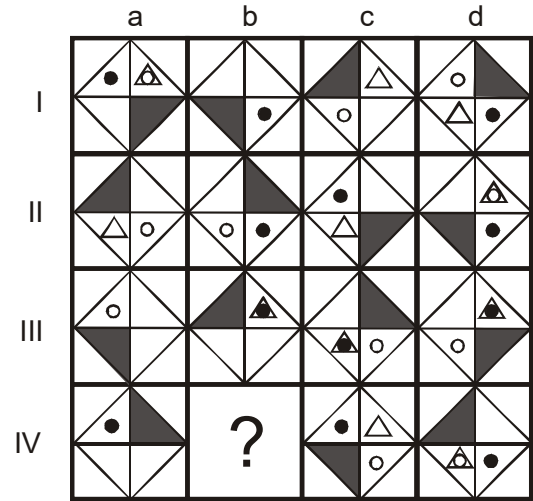
87.



Yukarıdaki şekil dizisinin belli bir kurala göre oluşması için hangi iki şekil yer değiştirmelidir?

- A) I ve III
B) II ve IV
C) III ve V
D) IV ve VI
E) V ve VI

88.



Yukarıdaki şekil matrisi belirli bir kurala göre oluşturulmuştur.

Buna göre, soru işaretinin bulunduğu yere aşağıdakilerden hangisi gelmelidir?

- A)
- B)
- C)
- D)
- E)

İzleyen sayfaya geçiniz.

21 Kasım 2009 HB-201-B

89 - 91. sorular aşağıdaki bilgilere göre cevaplandırılacaktır.

Bir parfüm üreticisi esanslarında iki grup çeşni kullanmaktadır. Bunlar;

Çiçekler: Gül, Yasemin, Zambak
Baharatlar: Zencefil, Tarçın ve Vanilya'dır.

Bu üretici, çeşnileri seçerken şu kurallara uymaktadır:

- Her esans çeşidinde sadece üç çeşni bulunur.
- Her esansa iki gruptan en az birer çeşni katılır.
- Esansta Gül kullanılırsa Zambak kullanılmaz.
- Esansta Yasemin kullanılırsa Vanilya da kullanılır.
- Esansta Zencefil kullanılırsa Tarçın da kullanılır.

89. Buna göre, üretici hazırlayacağı esanslarda aşağıda birlikte verilen çeşnilerden hangisini kullanamaz?

- A) Yasemin, Zencefil, Vanilya
- B) Zambak, Vanilya, Tarçın
- C) Gül, Yasemin, Vanilya
- D) Gül, Tarçın, Vanilya
- E) Yasemin, Zambak, Vanilya

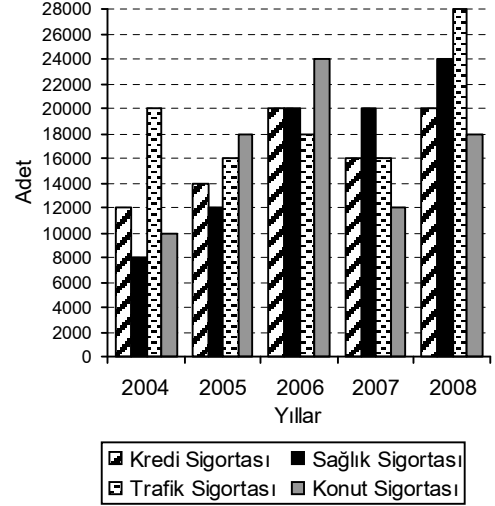
90. Bu üreticinin bir esansa katacağı çeşnilerde baharatlar ağırlıkta ise, bu esansta aşağıdakilerden hangisinin yer alması zorunludur?

- A) Zencefil
- B) Tarçın
- C) Vanilya
- D) Yasemin
- E) Zambak

91. Bir esansta Gül kullanılmamış fakat Tarçın kullanılmışsa aşağıdaki ifadelerden hangisi kesinlikle yanlıştır?

- A) Esansta Vanilya kullanılmıştır.
- B) Esansta Zambak kullanılmıştır.
- C) Esansta Zencefil kullanılmıştır.
- D) Kullanılan çeşniler çiçek ağırlıklıdır.
- E) Esansta Yasemin kullanılmıştır.

92 - 94. sorular aşağıdaki grafiğe göre cevaplandırılacaktır.



Yukarıdaki grafikte bir sigorta şirketinin 2004-2008 yılları arasındaki sigorta sayıları verilmiştir.

92. Bu bilgilere göre, konut sigortası sayısının tüm sigorta sayısı içinde en düşük yüzdeye sahip olduğu yıl aşağıdakilerden hangisidir?

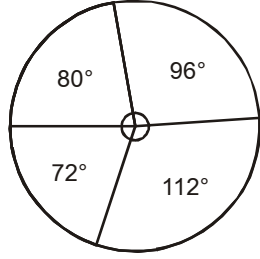
- A) 2004
- B) 2005
- C) 2006
- D) 2007
- E) 2008

93. Yukarıdaki bilgilere göre, aşağıdaki ifadelerden hangisi yanlıştır?

- A) 2005 yılında bir önceki yıla göre en büyük artış konut sigortası sayısında olmuştur.
- B) 2006 yılında tüm sigorta sayılarında bir önceki yıla göre artış olmuştur.
- C) 2007 yılında sağlık sigortası sayısında bir önceki yıla göre bir artış ya da azalış olmamıştır.
- D) 2007 yılında konut sigortası sayısında bir önceki yıla göre %50 azalma olmuştur.
- E) 2008 yılında trafik sigortası sayısında bir önceki yıla göre %60 artış olmuştur.

21 Kasım 2009 HB-201-B

94.



Yukarıdaki grafik toplam sigorta sayısının sigorta çeşitlerine göre dağılımını göstermektedir.

Buna göre dağılımın ait olduğu yıl aşağıdakilerden hangisidir?

- A) 2008
- B) 2007
- C) 2006
- D) 2005
- E) 2004

95. ve 96. sorular aşağıdaki bilgilere göre cevaplandırılacaktır.

Bir araştırma şirketi bir gruba, araba seçimi yaparken göz önünde bulundurulmuş kriterlerle ilgili anket uygulamıştır. Bu kriterler; fiyat, konfor ve yakıt tasarrufu olmak üzere sırasıyla F, K ve Y harfleriyle gösterilmektedir.

- Katılımcılardan; bu kriterleri en çok tercih edilen kriterden en az tercih edilen kriter doğru sıralamaları istenmiştir. Örneğin ankete katılan bir katılımcı, öncelikle konfor kriterini en son olarak da fiyat kriterini tercih ediyorsa sıralaması KYF şeklinde olmalıdır.
- Temsil ettiği harf en solda en çok sayıda olan kriter en fazla tercih edilen, temsil ettiği harf en solda en az sayıda olan kriter ise en az tercih edilen kriter olarak değerlendirilir.

Şirket anket sonuçlarını değerlendirmiş ve şu sonuçlara ulaşmıştır:

310 tane FKY	350 tane KYF	230 tane YKF
280 tane FYK	150 tane KFY	420 tane YFK

95. Bu bilgilere göre, en az tercih edilen kriter, anket sonuçlarının kaçında üçüncü sırada yer almıştır?

- A) 460
- B) 500
- C) 590
- D) 630
- E) 700

96. Anket sonuçlarına göre, fiyat kriterini yakıt tasarrufu kriterinden önce tercih edenlerin sayısı kaçtır?

- A) 680
- B) 740
- C) 840
- D) 900
- E) 930

**YABANCI DİL
İNGİLİZCE**

97-106. sorular bir metin oluşturmaktadır. Soruları sırayla okuyarak cümlelerdeki boşlukları doğru şekilde tamamlayan kelimeyi veya ifadeyi bulunuz.

97. The goal of advertisement is to put viewers in the mood to buy a certain product. That is why some advertisements explain the company believes its product is superior.

- A) how
- B) which
- C) why
- D) what
- E) that

98. But most of the advertisements involve parity products soft drinks, deodorants, breakfast cereals, toothpaste and jeans.

- A) which
- B) so that
- C) for example
- D) so as
- E) such as

99. Parity products are products that are roughly equal in quality to their competitors, they can't be promoted through any scientific proof of superiority.

- A) that
- B) such that
- C) for instance
- D) thus
- E) such

100 Advertisements for parity products usually use psychological and motivational strategies a product with a target audience's dreams, hopes, fears, desires and wishes.

- A) being associated
- B) to associate
- C) associate
- D) to be associated
- E) associated

101 Using sophisticated research techniques, advertisers study people's fears, dreams and values differ according their educational and socio-economic level.

- A) which
- B) that
- C) what
- D) in which
- E) how

102 This research allows advertisers their appeals precisely to the target audience.

- A) to tailoring
- B) to be tailored
- C) to tailor
- D) tailor
- E) tailoring

103 advertisers often focus on long-range advertising campaigns rather than on just a single ad.

- A) If
- B) Although,
- C) Only if
- D) Furthermore,
- E) Because,

104 The ultimate goal is not simply to sell a product but to build brand loyalty a long lasting relationship with the costumers can be established.

- A) so that
- B) such that
- C) whether
- D) in order that
- E) in order to

21 Kasım 2009 HB-201-B

105 Advertisers try to convert a brand name from a label to a field of qualities and values that live inside the heads of its consumers.

- A) to be targeted
- B) to be targeting
- C) to target
- D) targeting
- E) targeted

106 An advertisement campaign, uses repetitions of themes aiming at a psychological link between the product and the consumer.

- A) therefore
- B) whereas
- C) meanwhile
- D) on behalf of
- E) besides

107-109. sorularda, verilen Türkçe cümleye anlamca en yakın İngilizce cümleyi bulunuz.

107 Her yıl check-up, ortopedi, kozmetik ve plastik cerrahi, ağız ve diş bakımı, göz, kalp ve diğer sağlık ve cerrahi hizmetlerinden faydalanmak üzere 200 bin hastanın dünyanın çeşitli ülkelerinden Türkiye'ye seyahat ettikleri tahmin ediliyor.

- A) Each year, 200 thousand patients travel to different countries of the world from Turkey for checkups, orthopedics, cosmetics and plastic surgery, dental care, eye care and heart care and other types of healthcare and surgery.
- B) Patients, up to 200 thousand, travel from different countries of the world to Turkey for checkups, orthopedics, cosmetics and plastic surgery as well as being interested in heart, eye and dental care and other types of healthcare and surgery.
- C) It is estimated that, each year, Turkey gets 200 thousand patients with health problems who would like to have health care and surgery in orthopedics, cosmetics and plastic surgery, dental care, eye care and heart care.
- D) It is estimated that, each year, 200 thousand patients travel from different countries of the world to Turkey for checkups, orthopedics, cosmetics and plastic surgery, dental care, eye care and heart care and other types of healthcare and surgery.
- E) It is estimated that, each year, 200 thousand patients travel from different countries of the world to Turkey for checkups, orthopedics, cosmetics and plastic surgery with the exception of dental care, eye care and heart care and other types of healthcare and surgery.

21 Kasım 2009 HB-201-B

108 Türk bankacılık sektörü, mevduat bankaları, kalkınma ve yatırım bankaları ile kâr payı esasına göre faaliyet gösteren katılım bankalarından oluşmaktadır.

- A) The Turkish banking sector operates on profit sharing principles and consists of deposit banks, development and investment banks and participation banks.
- B) The Turkish banking sector consists of deposit banks, development and investment banks and participation banks operating according to profit sharing principles.
- C) The Turkish banking sector has three different kinds of banks: deposit banks, development and investment banks and participation banks operating according to profit sharing principles.
- D) Operating according to profit sharing principles, the Turkish banking sector consists of deposit banks, development and investment banks and participation banks.
- E) Deposit banks, development and investment banks and participation banks are banks that operate according to profit sharing principles in the Turkish banking sector.

109 Bundan yaklaşık 18 yıl önce ilk kez kullanılmaya başlanan mobil iletişim teknolojilerinin en temel amacı insanları mekândan bağımsız olarak birbirleri ile konuşurabilmektir.

- A) The main purpose of the mobile communications technology that first began to be used about eighteen years ago was to enable people to talk to each other independent of location.
- B) The mobile communications technology that first began to be used about eighteen years ago aimed at enabling people to talk to each other without worrying about locations.
- C) The ability to talk to each other independent of location was the main purpose of the people who first began to use the mobile communications technology about eighteen years ago.
- D) People aimed at talking to each other independent of location and that became the main purpose of the mobile telecommunications technology that began to be used about eighteen years ago.
- E) It was eighteen years ago that the mobile telecommunications technology first began to be used with the main purpose of enabling people to talk to each other independent of location.

110-112. sorularda, verilen İngilizce cümleye anlamca en yakın Türkçe cümleyi bulunuz.

110 The first Ottoman currency was issued by Osman Gazi, the founder of the empire; however, over the course of time the expanding Ottoman state developed a very complicated currency system composed of various units.

- A) Osmanlı'da ilk parayı çıkartan kişi imparatorluğun kurucusu Osman Gazi olmuştur; zaten, daha sonraları imparatorluğun genişlemesi ile daha karmaşık ve farklı birimlerden oluşan bir para sisteminin geliştirilmesi de gerekmiştir.
- B) Gelişen zaman içerisinde Osmanlı devletinin genişlemesi nedeniyle daha karmaşık ve farklı birimlerden oluşan bir para sistemi geliştirilse bile, ilk Osmanlı parasını çıkartan imparatorluğun kurucusu Osman Gazi olmuştur.
- C) Farklı birimlerden oluşan karmaşık Osmanlı para sisteminin, Osmanlı devleti sürekli genişlemeye başlamadan önceki ilk yaratıcısı imparatorluğun kurucusu Osman Gazi'dir.
- D) İmparatorluğun kurucusu Osman Gazi ilk Osmanlı parasını çıkartırken, gelişen zaman içerisinde sürekli gelişen Osmanlı devletini de düşünerek farklı birimlerden oluşan karmaşık bir para sistemi de geliştirmiştir.
- E) Osmanlı'da ilk para, imparatorluğun kurucusu Osman Gazi tarafından çıkartılmıştır; ancak, sürekli genişleyen Osmanlı devleti zaman içerisinde farklı birimlerden oluşan karmaşık bir para sistemi geliştirmiştir.

111 All the financial sectors were influenced by the global economic crises that emerged in 2008, nevertheless, the direct impact of the crisis in Turkish insurance market has been limited.

- A) Türk sigortacılık sektörü 2008 yılında baş gösteren global ekonomik krizden doğrudan doğruya etkilenmezken, dünyadaki tüm finansal sektörler bu krizin etkisinde kalmışlardır.
- B) 2008 yılında baş gösteren global kriz tüm finans sektörlerini etkilerken, bu krizin Türk sigortacılık sektörüne olan doğrudan etkisinin sınırları bellidir.
- C) Dünya 2008 global ekonomik krizini finans sektörleri ile atlarmaya çalışırken, Türk sigorta şirketleri de krizle doğrudan mücadelede sınırlı kalmışlardır.
- D) Dünyada 2008 yılında baş gösteren global ekonomik krizden bütün finansal sektörler etkilenmiştir, ne var ki, krizin Türk sigortacılık sektöründeki doğrudan etkisi sınırlı kalmıştır.
- E) Türk sigorta şirketlerine olan etkisi sınırlı olmakla birlikte, 2008 yılında dünyada baş gösteren global ekonomik krizin diğer finans sektörlerindeki etkileri kaçınılmaz olmuştur.

112 One of the major factors making 3G technology, without a doubt, so important is the internet, which has become a virtual sea of knowledge.

- A) Hem internet hem de 3G teknolojisi giderek artan sanal bilgi denizinin oluşumuna katkıda bulunmaktadır.
- B) 3G teknolojisini bu kadar önemli kılan etkenlerden birisi hiç şüphesiz sanal bir bilgi denizi haline dönüşen internettir.
- C) 3G teknolojisi ile sanal bir bilgi denizi haline dönüşen internet her geçen gün daha da önem kazanmaktadır.
- D) Sanal bir bilgi denizi haline dönüşen internet, 3G teknolojisinin önemini giderek arttırmaktadır.
- E) İnternet sanal bir bilgi denizine dönüşürken, 3G teknolojisi de bu dönüşüme katkıda bulunmaktadır.

113 - 116. sorular aşağıdaki parçaya göre cevaplandırılacaktır.

"Rebalancing" the global economy sounds terrific. But however appealing the concept, evoked again by the International Monetary Fund this week, no one appears to have the money to achieve it. Consider Asia, where it is understood that policymakers should try to wean their economies off a dependency on exports, work down reserves and leave free-floating currencies to fend for themselves.

Almost without exception, they are failing on all three counts. Only China has meaningfully pushed toward domestic demand, largely via investment, to support growth. Everywhere else, it was mostly the sharp turnaround in net exports that boosted real growth in gross domestic product in the first half. Investment as a proportion of GDP fell, while private consumption was roughly flat. And if "rebalancing" means reducing reserves, forget it. China, the world's biggest hoarder, is in no mood to share. After rising by a modest \$7.7bn in the first quarter, China's reserves surged \$178bn in the second quarter to \$2,132bn. Weekly data from India and Thailand show accelerations in reserve growth in the first half of September. A year ago, Asia held 62 per cent of the world's reserve assets; it now holds 66 per cent.

113 Is rebalancing the global economy likely to succeed?

- A) No, because it is IMF's suggestion.
- B) Yes, because IMF will fund those countries that need assistance.
- C) No, because there seems to be no money to do it.
- D) No, because only the governments in Asia are taking measures to liven the economy.
- E) Yes, because it is the only way to get out of the economic crisis.

114 What needs to be done to rebalance the global economy?

- A) Focus on domestic demand, increase investments, and take control over the value of the local currency
- B) Increase domestic products, decrease the reserves, and leave free-floating currencies alone
- C) Increase domestic and foreign investments as well as the reserves
- D) Increase the dependency on exports, focus on the reserves and fix the value of the currency
- E) Increase the reserves and the domestic demand which will increase the value of the currency

115 What did China do to support growth?

- A) Turned around the net exports
- B) Decreased the amount of exports
- C) Reduced its reserves
- D) Invested in domestic business
- E) Invested in private consumption

116 What is happening in Asia regarding the rebalancing of the global economy?

- A) Asia's reserves are increasing.
- B) The value of the currencies is under control.
- C) The domestic demand is increasing in all of the countries in the continent.
- D) Private consumption, which was roughly flat, is increasing.
- E) The first half has been very promising; Asia will continue to take measures.

21 Kasım 2009 HB-201-B

117 - 120. sorular aşağıdaki parçaya göre cevaplandırılacaktır.

Ireland went to the polls on Friday. In the final count issued Saturday afternoon, yes votes outnumbered the no votes about two to one. The lopsidedness of the vote in Ireland reflects both the success of a strong pro-treaty campaign, backed by much of Ireland's business and political establishment, and Ireland's dire economic situation.

Ireland joined what was then the European Community in 1973. Buoyed by European money, it grew to become one of Europe's success stories, its peat bogs and grazing pastures giving way to gleaming semiconductor plants and suburbs full of McMansions. But in the past 18 months, the economy has collapsed, suffering from soaring unemployment and one of the worst real-estate busts in the world.

A no vote by Ireland would have buried the Lisbon Treaty for good, creating institutional chaos in Brussels. Analysts say it would have killed any remaining momentum for further enlargement of the bloc, beyond Croatia, which is already in advanced negotiations, and Iceland, whose entry is considered a done deal once it gets its economy mended.

117 What was the percentage of 'yes' votes?

- A) 25%
- B) 30%
- C) 50%
- D) 60%
- E) 75%

118 Which of the following is not a reason for 'yes' votes?

- A) Support from political parties
- B) Support from the businesses
- C) Economic crisis
- D) Successful campaigns supporting the treaty
- E) Pressure from Europe's governing institutions

119 What made Ireland one of the most successful economies in Europe before the crisis?

- A) The semiconductor plants it built
- B) Soaring employment
- C) The money it received from the European Community
- D) The importance put on farming
- E) The booming real estate business

120 According to the passage, what would have been one of the outcomes if Ireland had not agreed to join the European Union?

- A) Other countries such as Croatia and Iceland would not be able to enter the EU.
- B) The Lisbon Treaty would have caused a chaos in Belgium.
- C) The Lisbon Treaty would have destroyed the Croatia's and Iceland's opportunities to enter the EU.
- D) The enlargement of EU would have been unavoidable.
- E) Iceland's economy would not have had a chance to improve.

21 Kasım 2009 HB-201-B

**YABANCI DİL
ALMANCA**

97-106. sorularda, cümledeki boşluğu doğru şekilde tamamlayan kelimeyi veya ifadeyi bulunuz.

97. In der Türkei hält die anhaltend gute Baukonjunktur

- A) vor allem türkischstämmige Migranten wollen sich hier engagieren.
- B) teilte der türkische Flachstahlproduzent Borçelik am Freitag mit.
- C) die Nachfrage nach Baumaterialien auf einem hohen Niveau.
- D) an einem türkischen Stromerzeuger beteiligen und gemeinsam weitere Kraftwerke bauen.
- E) und Eczacıbaşı genießt den Ruf, langfristig an Unternehmen interessiert zu sein.

98. Ob die Zeiten gut oder schlecht sind, die Gehaltsunterschiede für gleiche sind enorm.

- A) Informationen
- B) Einkäufe
- C) Landflächen
- D) Auskünfte
- E) Tätigkeiten

99. Viele Länder gaben langfristige Kredite an Entwicklungsländer, die an litten.

- A) Differenz
- B) Auftritt
- C) Eintritt
- D) Armut
- E) Prozess

100 Geldmarktfonds sollten immer inländischer Herkunft sein, da ausländische nicht werden können.

- A) Folgen / verbraucht
- B) Zinsen / freigestellt
- C) Drittel / gewonnen
- D) Böden / gespiegelt
- E) Währung / garantiert

101 Trotz der vergleichsweise positiven Lage auf dem Arbeitsmarkt, sei ein Stellenabbau in den kommenden Monaten unausweichlich,

- A) das Unglück werde für 2010 nicht eintreten.
- B) dafür will ich mich einsetzen.
- C) sie werde um Anpassung ihrer Belegschaft nicht herum kommen.
- D) deuteten auf eine Verbesserung.
- E) fürchten die Fachleute.

102 Thesaurierung bedeutet, dass die der Fondsanteile wachsen.

- A) Kurs
- B) Initiative
- C) Preise
- D) Versicherung
- E) Produktion

103 Die Möglichkeit, ein Vermögen aufzubauen, besteht im Errichten von Sparplänen.

- A) gelungene
- B) ausgewogene
- C) geeignete
- D) effektivste
- E) verschiedene

104, benötigen Sie alle aufgeführten Angaben auch für den zweiten möglichen Kreditnehmer.

- A) Wenn Sie einen Kredit zu zweit beantragen möchten
- B) Falls es um Antworten auf globale Fragen wie den Klimawandel geht
- C) Weil es Ziel einer besseren Integration der Muslime in Deutschland ist
- D) Denn mehrere Häuser in dem Gebiet seien sicherheitshalber geräumt worden
- E) Da nach der Einschätzung der befragten Experten die Zahl der Arbeitslosen ansteigen

105 Die Hauptaufgabe der EZB ist, die Kaufkraft des Euro und Preisstabilität im Euroraum zu gewährleisten.

- A) noch
- B) womit
- C) deshalb
- D) falls
- E) somit

21 Kasım 2009 HB-201-B

106 Jahren will die AKP ihre behauptete Brückenfunktion Ost und West mit Inhalt füllen, will ein zentraler Spieler der Weltpolitik im Nahen Osten werden.

- A) Seit / zwischen
- B) Alle / mit
- C) Für / auf
- D) Zu / in
- E) Schon / gegen

107-109. sorularda, verilen Almanca cümlelerin Türkçe dengini bulunuz.

107 Euro ist zur zweitwichtigsten Reservewährung der Welt geworden, durch ihn schließen Europas Börsen zum führenden Weltfinanzmarkt in Amerika auf.

- A) Avrupa borsaları içinde Euro ikinci önemli rezerv parası durumunda, böylelikle borsada Amerika piyasasında yerini aldı.
- B) Dünya'nın önde gelen finans piyasaları yerini Euro'nun dolaşıma girmesiyle, Amerika'dan sonra ikinci sırayı Avrupa'ya kaptırdı.
- C) Euro'nun dünyada en önemli rezerv parası haline gelmesi, onun Avrupa borsaları içinde ikinci sırada Amerika dünya finans piyasasına yerleşmesine neden oldu.
- D) Euro dünyanın en önemli ikinci rezerv parası haline geldi; Avrupa borsaları onun sayesinde Amerika'da önde gelen dünya finans piyasasındaki yerini aldı.
- E) Euro'nun uluslararası borsa piyasasında zayıf kalması, Avrupa borsalarının rezerve paralarının azalmasına ve Amerika'daki dünya piyasasında ikinci duruma düşmesine neden oldu.

108 Die Herausforderungen der Globalisierung, die Folgen des Klimawandels, Krisen und Konflikte prägen die politischen Diskussionen.

- A) İklim değişikliği ve krizlerin sonuçları, siyasi platformda farklı tartışmalara yol açtı.
- B) Küreselleşmenin beraberinde getirdiği yeni gerekler, iklim değişiminin sonuçları, krizler ve çatışmalar siyasi tartışmalara damgasını vuruyor.
- C) İklim değişikliğinin sonuçları, siyasi tartışmalara neden olarak, küreselleşmenin beraberinde getirdiği yeni gerekleri etkiledi.
- D) Küreselleşme, siyasi tartışmaları farklı şekilde etkiledi ve yeni sonuçlar doğurdu.
- E) Küreselleşmeyle beraber iklim değişikliği, krizler ve siyasi tartışmalar maalesef yeni bir boyut aldı.

109 Ein Kredit-und Bürgerschaftsprogramm hilft gesunden und größeren Unternehmen, die wegen der Zurückhaltung der Banken zur Zeit keine Kredite bekommen.

- A) Kriz ortamında bankaların kredi vermekte çekingen davranmasından dolayı, sağlıklı durumdaki büyük firmalara bir kredi ve kefillik programı yardımcı oluyor.
- B) Büyük firmalar bu zamanda bankalardan kredi alamadıkları için, yeni bir kredi ve kefillik programı devreye sokuldu.
- C) Bankalardan kredi alamayan zor durumdaki işletmelere, yeni oluşturulan kredi ve kefillik programına başvuruları öneriliyor.
- D) Yeni gündeme gelen kredi ve kefillik programı, sadece büyük işletmelere kredi vererek, krizi atlatmalarına yardımcı oluyor.
- E) Kriz nedeniyle bankalardan kredi talep edemeyen büyük yatırımcılar, kredi ve kefillik programından yararlanarak yüksek miktarda kredi alabiliyorlar.

21 Kasım 2009 HB-201-B

110-112. sorularda, verilen Türkçe cümlelerin Almanca dengini bulunuz.

110 Türkiye-Almanya Film Festivali, iki ülke sinema sanatı arasında kültürlerarası diyaloga hizmet eden Almanya çapındaki en önemli festival.

- A) Das Filmfestival Türkei-Deutschland macht Filme zum bedeutenden gesellschaftlichen Medium deutschlandweit, das auch dazu beitragen kann, den interkulturellen Dialog zwischen beiden Ländern zu fördern.
- B) Das Filmfestival Türkei-Deutschland hat das Ziel, den Kulturgruppen verschiedener Abstammungen mit den informativen Mitteln des Kinos eine gemeinsame Plattform des Diskurses zu schaffen.
- C) Das Filmfestival Türkei-Deutschland will Kulturvermittlern aus beiden Kulturkreisen neue Anregungen geben und deshalb zählt sie deutschlandweit als das wichtigste Festival.
- D) Das Filmfestival Türkei-Deutschland bringt unbekannte Lebenswirklichkeiten näher und ist deutschlandweit das wichtigste Festival unter den Filmschaffenden beider Länder.
- E) Das Filmfestival Türkei-Deutschland ist das deutschlandweit wichtigste Festival für den interkulturellen Dialog zwischen dem deutschen und türkischen Kino.

111 Alanya Turizm Tanıtma Vakfı tarafından, sergilenen eserlerden bir albüm yayınlanması halinde, eser sahiplerine gönderilecektir.

- A) Weil die Erarbeitung des Albums noch nicht beendet werden konnte, müssen die Werke seitens Alanya Tourismus und Promotion Stiftung zurückgesandt werden.
- B) Die Werke, die für die Erarbeitung eines Albums ausgewählt werden, müssen von den Künstlern, seitens Alanya Tourismus und Promotion Stiftung eingesammelt werden.
- C) Die Werke, die im Album gedruckt werden sollen, müssen seitens Alanya Tourismus und Promotion Stiftung den Künstlern veröffentlicht werden.
- D) Im Falle einer Erarbeitung eines Albums über die ausgestellten Werke, wird dies an die Künstler der Werke seitens Alanya Tourismus und Promotion Stiftung zugesandt.
- E) Die an die Alanya Tourismus und Promotion Stiftung eingesandten Arbeiten werden nicht zurückgesandt, wenn schon ein Album ausgestellt wurde.

112 Özelliklerine uygun koşullarda saklanmayan gıda maddelerinin tüketimi, zehirlenmelere yol açabilir.

- A) Unter diesen Voraussetzungen führt der Verbrauch von Nahrungsmitteln, die ihren Eigenschaften entsprechend aufbewahrt wurden, nicht zu Vergiftungen.
- B) Der Verbrauch von Nahrungsmitteln, die nicht unter den ihren Eigenschaften entsprechenden Voraussetzungen aufbewahrt werden, kann zu Vergiftungen führen.
- C) Vergiftungen durch Nahrungsmitteln sind auf Missachtung der Eigenschaften zurückzuführen, die vor ihrem schnellen Verbrauch die Art ihrer Aufbewahrung bestimmen.
- D) Der Verbrauch von Nahrungsmitteln ruft unter dem Umstand Vergiftungen hervor, dass sie ohne Rücksicht auf ihre Eigenschaften aufbewahrt wurden.
- E) Die Eigenschaften von Nahrungsmitteln müssen bei ihrer Aufbewahrung beachtet werden, um gleiche Vergiftungen, die durch ihren Verbrauch entstehen können, zu vermeiden.

113. ve 114. sorular aşağıdaki paragrafa göre cevaplandırılacaktır.

Zwei Wochen nach dem Jahrhunderthochwasser in Istanbul sind bei erneuten Überschwemmungen im Nordosten der Türkei mindestens vier Menschen ums Leben gekommen. Wie die türkische Nachrichtenagentur Anadolu berichtete, riss ein Erdbeben in der Provinz Artvin an der Grenze zu Georgien am Mittwochabend das dreistöckige Haus einer Familie mit sich; drei Frauen im Alter von 17,15 und 54 Jahren starben, ein dreijähriges Mädchen konnten die Retter lebend aus den Trümmern bergen. Die Suche nach dem ebenfalls unter den Trümmern vermuteten Familienvater wurde fortgesetzt.

113 Was hat den Sturz des dreistöckigen Hauses in der Provinz Artvin ausgelöst?

- A) Eine Nachricht
- B) Ein Erdbeben
- C) Ein Erdbeben
- D) Ein Unfall
- E) Eine Krankheit

114 Wieviel Frauen sind ums Leben gekommen?

- A) zwei
- B) drei
- C) vier
- D) fünf
- E) sechs

115 - 117. sorular aşağıdaki paragrafa göre cevaplandırılacaktır.

Der Ministerpräsident der Türkei Recep T. Erdoğan äußerte die Hoffnung auf die Teilnahme Russlands und Irans an der Umsetzung des Projektes Nabucco. Durch das Projekt einer Gas-Pipeline werden die Gaslieferungen vom Kaspischen Meer nach Europa unter der Umgehung der Russischen Föderation vorgesehen. "Wir plädieren für den Beitritt Irans zu diesem Projekt, wenn die Umstände günstig liegen. Wir hoffen auch auf die Teilnahme Russlands", sagte der türkische Regierungschef am 13. Juli in Ankara auf dem Gipfel, während dessen das Nabucco-Abkommen auf Regierungsebene unterschrieben wurde. Recep T. Erdoğan bezeichnete die Unterzeichnung des Abkommens als "ein historisches Moment". Der türkische Ministerpräsident ist mit jenen Stimmen nicht einverstanden, die Nabucco als Traum bezeichnen. "Heute halten manche das Projekt für eine Phantasie. Dasselbe wurde aber über das Projekt der Erdöl-Pipeline Bakü-Tiflis-Ceyhan gesagt, die heute erfolgreich funktioniert", ergänzte Erdoğan.

115 Mit der Änderung des Projektes Nabucco,

- A) kann man von einem phantasievollen In- und Auslandstransport sprechen.
- B) soll die Teilnahme von Russland und Iran für die Erdöl-Pipeline verwirklicht werden.
- C) wird die Öllieferung über Bakü-Tiflis und Ceyhan nach Europa sehr erfolgreich funktionieren.
- D) wird die Gaslieferung vom Kaspischen Meer nach Europa unter Umgehung des Russischen Staates geplant.
- E) werden die Erdöllieferungen von Iran viel günstiger.

116 Während der Unterzeichnung des Nabucco-Abkommens,

- A) hoffte der Regierungschef auf die Mitgliedschaft von Russland.
- B) seien in die Hauptstadt der Türkei die Vertreter von 20 Ländern angekommen.
- C) waren alle mit ihren Stimmen einig.
- D) wollte auch Irak an diesem Projekt mitwirken.
- E) bezeichnete der Regierungschef dieses Projekt als ein Traum.

21 Kasım 2009 HB-201-B

117 Für Recep T. Erdoğan war die Unterzeichnung des Abkommens keine Utopie,

- A) denn jene Stimmen für die Unterzeichnung des Abkommens war nicht historisch.
- B) weil Iran niemals für die Einstimmung dieses Projekts bereit war.
- C) weil heute auch das Projekt der Erdölrohrleitung Bakü-Tiflis-Ceyhan sehr gut läuft.
- D) denn die Teilnahme von Russland war schon seit Jahren ein Traumwunsch.
- E) weil auch das Projekt vom Gas-Pipeline nicht mit Erfolg verwirklicht wurde.

118-120. sorularda, verilen paragrafta boş bırakılan yeri doğru şekilde tamamlayan ifadeyi bulunuz.

118 Zwischen der Türkei und den Mitgliedstaaten der Europäischen Union bestehen seit vielen Jahren enge, freundschaftliche Beziehungen. Im Rahmen der NATO, bei der Stabilisierung von Krisenregionen und beim Kampf gegen den internationalen Terrorismus arbeiten wir eng und vertrauensvoll zusammen. CDU ve CSU im Europäischen Parlament bekennen sich klar zu einem freundschaftlichen Verhältnis zur Türkei: Größe, politisches Gewicht und Geschichte machen die Türkei zu einem erstrangigen Partner der Europäischen Union. Wir sind überzeugt davon, dass eine enge partnerschaftliche Beziehung zur Türkei auch in Zukunft für die erfolgreiche Entwicklung der EU von herausragender Bedeutung ist.

- A) Als Mitglied der CDU können sie am politischen, wirtschaftlichen und kulturellen Leben in unserer Gesellschaft mitwirken.
- B) Das Portal versteht sich als zentrale Informationsplattform zum Thema Integration.
- C) Wenn der Berliner Politiker Özcan Mutlu könnte, würde er jeden einzelnen dieser Akademiker hier halten.
- D) Gegenwärtig wird breit über die Integration von Türken in Deutschland diskutiert.
- E) Die Türkei ist für Deutschland und Europa ein geschätzter und zuverlässiger Partner.

119 Hier hilft ein Haushaltsbuch über mindestens ein Monat plus zusätzliche Ausgaben im Quartal oder einmalige Ausgaben und Einnahmen im Jahr. Schauen Sie ihre Kontoauszüge durch und notieren Sie alle Werte. Ihre monatlichen Ausgaben sollten Sie auch nicht zu knapp bemessen und immer eine kleine Reserve einrechnen.

- A) Finanzberater werden Ihnen maßgeschneiderte Angebote unterbreiten und mit Ihnen besprechen.
- B) Sie müssen Ihre gewünschte Kreditsumme auswählen und den Tilgungsrechner starten.
- C) Sie brauchen Geld, doch zuerst kommt das Planen der Einnahmen und Ausgaben.
- D) Der Kreditgeber ermittelt, ob Sie genügend Eigenkapital besitzen, sowie Sicherheiten, ob Sie Schulden haben etc.
- E) Die Höhe der Vorfälligkeit hängt von der Restschuld, der Kreditlaufzeit, den Raten und des Zinssatzes ab.

120 Alle vier Jahre wird über die politische Zusammensetzung des Bundestags abgestimmt. Das Parlament, dem regulär 598 Abgeordnete angehören, ist das Herzstück des politischen Systems und oberstes demokratisches Staatsorgan der Bundesrepublik Deutschland. In der gerade zu Ende gegangenen 16. Wahlperiode hat das Parlament rund 600 Gesetze beschlossen. Seit Gründung der Bundesrepublik 1949 wurden mehr als 6000 neue Gesetze verkündet. Neben dieser wichtigen Rolle für die Legislative ist das Parlament auch für die Wahl des Bundeskanzlers und die Kontrolle der Bundesregierung verantwortlich.

- A) Im Parlament werden Gesetze beraten und verabschiedet.
- B) Sie hat in den vergangenen vier Jahren unter der ersten deutschen Bundeskanzlerin Angela Merkel regiert.
- C) Insgesamt hat der zuständige Bundewahlausschuss für die Bundestagswahl 29 Parteien zugelassen.
- D) An den Wahlen beteiligten sich 77,7 Prozent der Wahlberechtigten.
- E) Nach Schließung der Wahllokale am 27. September um 18 Uhr wartet ganz Deutschland gespannt auf die ersten Hochrechnungen.

21 Kasım 2009 HB-201-B

**YABANCI DİL
FRANSIZCA**

97-106. sorularda, cümledeki boşluğu doğru şekilde tamamlayan kelimeyi veya ifadeyi bulunuz.

97. La demande de monnaie baisse le taux d'intérêt augmente.
- A) pendant
B) que
C) quand
D) à cause de
E) avec
98. L'opération d'emprunt est matérialisée par un contrat conclu l'emprunteur et le prêteur.
- A) de
B) dans
C) à
D) au milieu de
E) entre
99. Si la demande de monnaie augmentait, les taux d'intérêt élevés.
- A) avait été
B) sera
C) ont été
D) seraient
E) sont
100. Quand on formule une demande de crédit, il faut la
- A) justifiez
B) justifier
C) justifiée
D) justifiant
E) justification
101. Les banques offrent solutions aux personnes qui veulent faire des placements.
- A) beaucoup
B) très
C) plus
D) tous
E) plusieurs
102. La monnaie permet aux hommes d'échanger les richesses
- A) que produisent
B) qui produisent
C) qu'ils produisent
D) qu'il produit
E) qui produit
103. L'euro est la monnaie adoptée par les pays à l'Union économique et monétaire.
- A) ont participé
B) participaient
C) participent
D) participant
E) participer
104. Il faut que vous cette facture le plus tôt possible.
- A) régliez
B) aviez réglé
C) réglez
D) régler
E) êtes réglé
105. Le crédit à court terme est un crédit la durée est inférieure à 2 ans.
- A) celui
B) lequel
C) qui
D) que
E) dont
106. La carte de crédit est couramment utilisée que le chèque.
- A) plus
B) le plus
C) beaucoup
D) toujours
E) très

21 Kasım 2009 HB-201-B

107-109. sorularda, verilen Fransızca cümlelerin Türkçe dengini bulunuz.

107 Avant le 1er janvier 2002, chacun des pays de la zone euro disposait de sa monnaie nationale.

- A) 1 Ocak 2002'ye kadar kendi ulusal paralarını kullanan ülkeler, şimdi Avro Bölgesine dahildir.
- B) 1 Ocak 2002'den sonra, Avro'yu kabul eden ülkelerin hepsi kendi ulusal paralarını bıraktılar.
- C) 1 Ocak 2002'den önce, Avrupa Birliği ülkelerinin hiçbir para birimi olarak Avro kullanmıyordu.
- D) 1 Ocak 2002'den önce, Avro Bölgesine dahil ülkelerin her birinin kendi ulusal parası vardı.
- E) 1 Ocak 2002'den sonra, Avro Bölgesi ülkelerinin her biri bu parayı ulusal para birimi olarak benimsedi.

108 Il y a déficit budgétaire quand les charges sont supérieures aux ressources.

- A) Bütçede açık varsa, giderler gelirlerin çok üstünde demektir.
- B) Harcamalar gelirlere fazlaysa, bütçe açık verir.
- C) Bütçe fazlası, gelirlerin harcamaları aştığını gösterir.
- D) Giderler gelirleri aştığı zaman ek bütçe hazırlanır.
- E) Bütçe açığı, kamu harcamaları yüksek olduğunda ortaya çıkar.

109 La facture aurait dû être payée avant la fin du mois.

- A) Faturanın ay sonundan önce ödenmiş olması gerekiyordu.
- B) Faturanın ay sonuna kadar ödenmesi bekleniyor.
- C) Faturayı ay sonundan önce ödemeniz gerekiyor.
- D) Faturanın en son geçtiğimiz ay ödenmesi gerekiyordu.
- E) Faturanın son ödeme tarihi önümüzdeki ay sonudur.

110-112. sorularda, verilen Türkçe cümlelerin Fransızca dengini bulunuz.

110 Bir çek defterinin verilmesi bankanın takdirine bırakılmıştır.

- A) La délivrance d'un chéquier dépend de la demande du client.
- B) Les clients laissent à la banque la décision de leur délivrer un chéquier.
- C) Les banques ont renoncé à laisser des chèquiers à l'adresse du client.
- D) Les banques ne veulent plus vous délivrer un chéquier.
- E) La délivrance d'un chéquier est laissée à l'appréciation de la banque.

111 Üç Fransız'dan yalnızca biri tüketici kredisi kullanıyor.

- A) Les français utilisent le crédit revolving depuis seulement 3 ans.
- B) Tous les 3 des français utilisent le crédit à la consommation.
- C) Un français sur 3 utilise seulement le crédit immobilier.
- D) Seulement un français sur 3 utilise le crédit à la consommation.
- E) Le crédit utilisé par seulement l'un des 3 français, c'est le crédit gratuit.

112 Dövizler kambiyo piyasasında alınıp satılırlar.

- A) Les établissements de crédit s'échangent des devises.
- B) Les devises s'achètent et se vendent sur le marché des changes.
- C) Le change consiste à acheter ou à vendre des devises.
- D) Sur le marché des changes, on vend et revend des devises.
- E) On achète des devises pour les revendre sur le marché des changes.

113-115. sorularda, sırasıyla okunduğunda anlam bütünlüğünü bozan cümleyi bulunuz.

- 113 I. Si un compte joint est ouvert au nom de M. ou M. chacun des co-titulaires du compte peut effectuer seul toute opération sur le compte.
 II. S'il est ouvert au nom de M. et M. la signature de chacun des co-titulaires est nécessaire pour toutes les opérations.
 III. Toute personne résidant en France a droit à l'ouverture d'un compte de dépôt dans l'établissement de crédit de son choix.
 IV. En ouvrant un compte joint, les co-titulaires de ce compte sont créanciers à part entière du solde créditeur mais ils sont également débiteurs de l'éventuel déficit.
 V. En cas de décès, si le compte est ouvert au nom de M. ou M. le survivant peut continuer à le faire fonctionner sauf opposition des héritiers; s'il est ouvert au nom de M. et M. le compte est bloqué.
- A) I
 B) II
 C) III
 D) IV
 E) V

- 114 I. Aujourd'hui, l'argent sur un compte chèque ne génère que très peu ou pas d'intérêts.
 II. Le porteur du chèque est assuré de son paiement pendant toute la durée de validité du chèque (1 an et 8 jours en France).
 III. C'est pourquoi il est préférable de ne pas y laisser de fonds au delà des besoins quotidiens.
 IV. Les placements pratiques sont les comptes épargne ou les placements bancaires.
 V. Ceux-ci peuvent être retirés par une simple notification à la banque, c'est souvent une affaire de quelques heures.
- A) I
 B) II
 C) III
 D) IV
 E) V

- 115 I. La procuration est l'autorisation donnée par le titulaire du compte à une tierce personne de faire fonctionner le compte.
 II. Celui qui donne la procuration s'appelle le mandant; celui qui reçoit la procuration s'appelle le mandataire.
 III. La procuration peut être limitée à certaines opérations ou être totale.
 IV. La délivrance d'un chéquier est laissée à l'appréciation de la banque; en cas de refus, la banque doit justifier ce refus.
 V. Elle peut être donnée à plusieurs personnes qui pourront agir séparément (chacune peut agir seul) ou conjointement (l'ensemble des mandataires opère en même temps).
- A) I
 B) II
 C) III
 D) IV
 E) V

116. soruyu verilen paragrafa göre cevaplayınız.

- 116 Les contrôles des prix sont plus courants dans d'autres pays que les Etats-Unis. Mettons de côté les contrôles en période de guerre (deuxième guerre mondiale et guerre coréenne), les seuls contrôles de prix qui ont été imposés en période de paix aux Etats-Unis, furent ceux promulgués sous l'administration de Nixon entre 1971 et 1974. Le contrôle le plus dur a consisté en un gel des prix et des salaires dans lequel aucun prix ou salaire ne pouvait dépasser son niveau de l'année d'avant. Le gel des salaires a été très impopulaire.

D'après le texte,

- A) Les autres pays appliquent des contrôles des prix plus souvent que les Etats-Unis
 B) Aux Etats-Unis, il n'y a pas eu de contrôles des prix en période de guerre
 C) Nixon était contre les contrôles des prix en période de paix
 D) L'année d'avant on a eu recours à un gel des prix et des salaires
 E) Le peuple est très content du gel des salaires

117. ve 118. sorular aşağıdaki parçaya göre cevaplandırılacaktır.

Le cautionnement est l'engagement pris par un tiers, appelé caution, de s'exécuter en cas de défaillance du débiteur. On distingue le cautionnement simple et le cautionnement solidaire. Le cautionnement simple est en pratique, très rare. Dans le cas du cautionnement solidaire, la caution peut être appelée à payer dès que le débiteur principal manque à ses engagements. Lorsque plusieurs personnes sont cautions solidaires, elles garantissent ensemble le créancier et chacune est engagée pour le tout. Si l'acte de caution ne le précise pas, la caution ne garantit que le capital.

117 Que peut être le titre de ce texte ?

- A) Les engagements du débiteur
- B) La caution et le capital
- C) Le cautionnement
- D) L'acte de caution
- E) Le cautionnement solidaire

118 Si l'emprunteur est défaillant

- A) la caution aussi manque à ses engagements
- B) la personne qui se porte caution ne garantit pas le capital
- C) plusieurs personnes sont cautions solidaires
- D) la caution fait appel au créancier
- E) c'est la caution qui est appelée à payer à sa place

119. ve 120. sorular aşağıdaki parçaya göre cevaplandırılacaktır.

Il est très pratique de faire ses achats avec une carte de crédit. Les cartes de crédit vous permettent d'effectuer des achats jusqu'à concurrence d'un montant préétabli, pour lesquels vous êtes facturé à une date ultérieure. Elles vous autorisent de retarder votre solde d'un cycle de facturation à un autre. Cependant, vous devez déboursier un montant minimal chaque mois, et à tout montant impayé sont ajoutés des frais d'intérêt qui sont calculés d'après un taux annuel en pourcentage, le TAP.

119 D'après le texte,

- A) la carte de crédit vous permet de retarder votre solde pendant un an
- B) les cartes de crédit vous permettent d'effectuer des achats sans aucune limitation
- C) il faut régler un montant minimal du solde de la carte de crédit chaque mois
- D) il n'est pas très pratique d'utiliser plus d'une carte de crédit
- E) il est obligatoire de rembourser le montant total à la date d'échéance du paiement

120 Quand vous achetez avec une carte de crédit

- A) vous pouvez faire des achats jusqu'à la limite d'un montant préétabli
- B) des frais d'intérêt sont ajoutés au montant de vos achats
- C) vous êtes facturé à la date même de vos achats
- D) vous devez régler sur place une partie du montant de vos achats
- E) vous devez aussi payer le TAP

SINAVDA UYGULANACAK KURALLAR

1. Sınav süresince görevlilerle konuşmak ve soru sormak yasaktır. Sınav salonunda konuyla ilgili kitap, not ve benzeri şeyler bulundurmamak sınavın iptalini gerektirir.
2. Sınav sırasında kopya yapan, yapmaya teşebbüs eden ve kopya verenlerin kimlikleri sınav tutanağına yazılacak ve sınavları geçersiz sayılacaktır.
3. Sınav sırasında herhangi bir nedenle dışarı çıkmak yasaktır.
4. Sınavın başlamasını izleyen ilk 30 dakika ve sınav süresinin son 5 dakikası içinde, sınavlarını tamamlasalar bile hiçbir adayın salondan çıkmasına izin verilmeyecektir. Sınavın başlamasını izleyen ilk 15 dakikadan sonra hiç bir aday sınava alınmaz.
5. Size verilen cevap kâğıdının üzerinde yazan numara ve ismin size ait olup olmadığını kontrol ediniz. Cevap kâğıdı size ait değilse, görevlileri uyarıp size ait olan cevap kâğıdını alınız. Daha sonra cevap kâğıdı üzerinde ayrılmış olan yerlere TC kimlik numaranızı ve test grubunuzu kodlayınız, adınızı soyadınızı yazınız ve ilgili yeri imzalayınız.
6. Soru kitapçığının sayfalarının eksik olup olmadığını, basım hatasının bulunup bulunmadığını kontrol ediniz. Varsa özürlü soru kitapçığını değiştirmesi için salon başkanına başvurunuz. Soru kitapçığının üzerinde ayrılan yere, adınızı, soyadınızı, TC kimlik numaranızı ve bu salonun numarasını yazınız. Sınav sonunda soru kitapçıkları toplanacak ve sınav merkezinde tek tek incelenecektir. Soru kitapçığının bir tek sayfası bile eksik çıksa sınavınız geçersiz sayılacaktır.
7. Soru kitapçığının sayfalarındaki boş yerleri müsvedde yapmak için kullanabilirsiniz. Başka bir kâğıdı müsvedde olarak kullanmak yasaktır.
8. Adayların sorulara verdikleri yanıtları herhangi bir yere yazmaları ve bunu sınav salonundan dışarıya çıkarmaları yasaktır. Bu kurala uymayanların sınavları geçersiz sayılır.
9. Sınav sırasında sigara içilmesi, adayların birbirinden kalem, silgi vb. şeyleri istemesi yasaktır.
10. Sınav sırasında hesap makinesi kullanılabilir. Ancak üzerinde program yapılmasına, saklanmasına ve çalıştırılmasına izin veren (EXE, STORE, RUN gibi tuşları bulunduran) hesap makineleri kullanılamaz.
11. Adaylar sınav sırasında yanlarında telsiz, cep telefonu, çağrı cihazı vb. iletişim araçlarını bulunduramazlar. Yanlarında bu tür cihazları bulunanların, bunları sınav sonrasında almak üzere salon başkanına teslim etmeleri gerekir. Aksine davrananların sınavı geçersiz sayılır.
12. Biraz sonra dağıtılacak olan soru kitapçığında test ile ilgili açıklamalar yazılıdır. Bu açıklamaları okumadan ve size "SINAV BAŞLAMIŞTIR" denmeden soruları cevaplamaya başlamayınız.

SINAVLARINIZDA BAŞARILAR DİLERİZ.